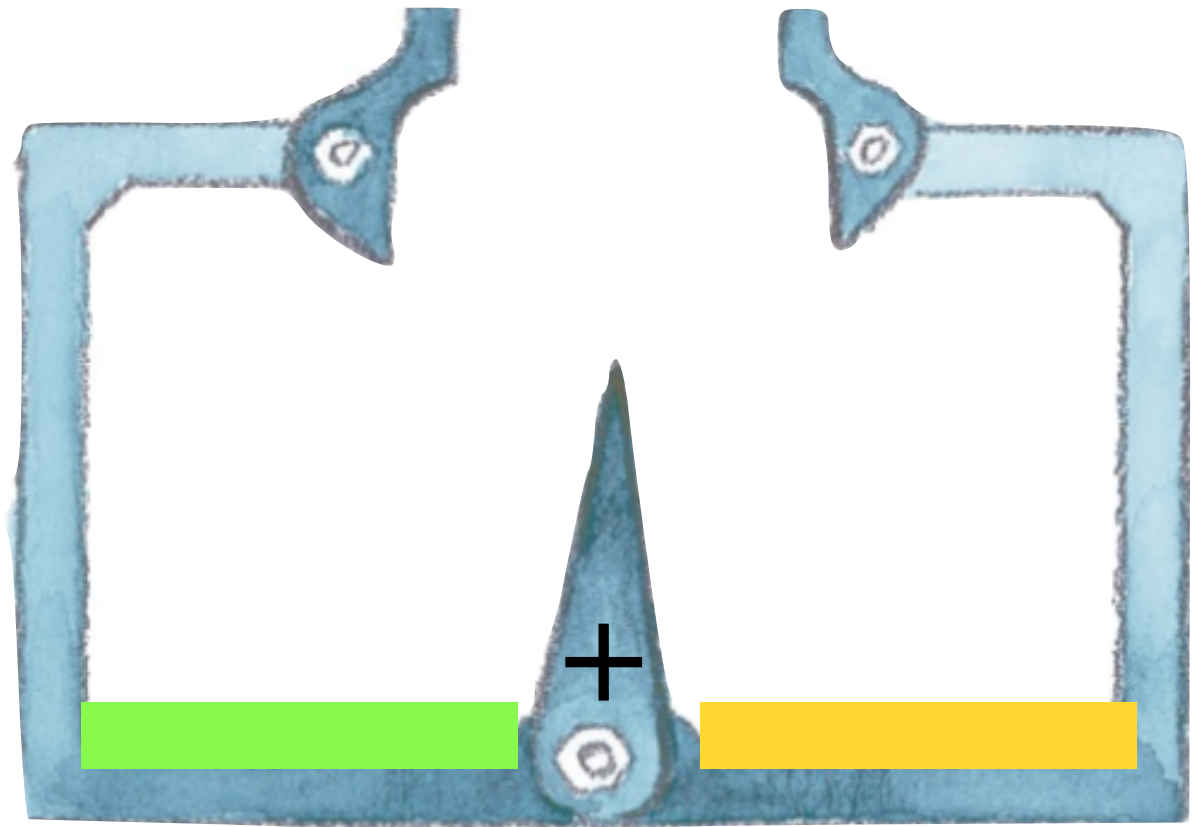


DELA UPP TALET 6 I DELNINGSMASKINEN, SKRIV NER VAD DU TESTAT



$$\underline{\quad} + \underline{\quad} = \underline{\quad}$$

$$\underline{\quad} + \underline{\quad} = \underline{\quad}$$

$$\underline{\quad} + \underline{\quad} = \underline{\quad}$$


$$\underline{\quad} + \underline{\quad} = \underline{\quad}$$

$$\underline{\quad} + \underline{\quad} = \underline{\quad}$$




$$\underline{\quad} + \underline{\quad} = \underline{\quad}$$

$$\underline{\quad} + \underline{\quad} = \underline{\quad}$$

Dela upp talet 6, använd konkret material och plocka fram varje alternativ innan ni skriver. Försök att vara systematisk och börja från 0 och jobba er uppåt.



Vilka är 6? Ringa in.



Skriv 6.

